



الجمهورية الجزائرية الديمقراطية الشعبية

وزارة التربية الوطنية

مؤسسة التربية و التعليم الخاصة **سليم**

ETABLISSEMENT PRIVE D'EDUCATION ET D'ENSEIGNEMENT SALIM

www.ets-salim.com 021 87 10 51 021 87 16 89 Hai Galloul - bordj el-bahri alger

رخصة فتح رقم 1088 بتاريخ 30 جانفي 2011

غصبري- ابتدائي- متوسط - ثانوي

إعتماد رقم 67 بتاريخ 06 سبتمبر 2010

مارس، 2020

المستوى: الثانية ابتدائي، 2AP

اختبار الفصل الثاني في مادة الرياضيات

اللقب:

الاسم:

القسم:

الوضعية 1: (2ن) اكتب الأعداد التالية بالحروف أو الأرقام

513:

207:

تسعة و ستون:

ثلاثمائة وتسعة وعشرون:

الوضعية 2: (2.5 ن) أكمل المتتالية الآتية تنازليا 10 - 10

248	238
-----	-----	-------	-------	-------	-------



قارن الأعداد التالية باستعمال الرمز المناسب، >، =

100+ 150 ... 250

100+100 ... 40 +400

900 ... 199

الوضعية 3: (2 ن) ركبتم الحافلة يوم الرحلة على الساعة 9:00 صباحا وجلستم

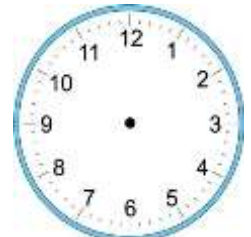
لتناول الغداء على الساعة : 11:30 صباحا مثل هذان التوقيتان على الساعتين في

الأسفل .

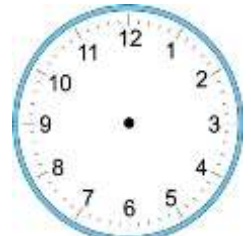
أكمل الجدول :

التوقيت المسائي	التوقيت الصباحي
	9:00
	11:30

09:00



11:30



حي قعلول - برج البحري - الجزائر

الوضعية 4 : (1.5 ن) أكمل الجدول ثم مثل المبالغ بالقطع و الأوراق النقدية كما في المثال .

نصفه	العدد	ضعفه	التمثيل بالقطع و الأوراق النقدية
120	240	480	
....	60
13

الوضعية الإدماجية : (2 ن)

بمناسبة عيد الأم ، اتفقت مع أختك على شراء هدية لأُمكما .

فأخرجت 349 دينارا من حساباتك ، و أضافت أختك مبلغ 523 دينارا

❖ احسب المبلغ الذي جمعته أنت و أختك معا .

إذا علمت أن ثمن الهدية 450 دينارا .

- ماهو المبلغ المتبقي لديكما ؟

الأجوبة

الحل

العمليات

..... =

.....

..... =

.....

التصحيح

الوضعية 1: (2ن)

- 0.5.....513: خمسمائة و ثلاثة عشر
 0.5.....207: مئتان و سبعة
 0.5.....69: تسعة و ستون
 0.5.....329: ثلاثمائة و تسعة و عشرون

الوضعية 2 : (2.5 ن) أكمل المتتالية الآتية تنازليا 10- 10

4× 0.25.....	248	238	228.	218	208	198
--------------	-----	-----	------	-----	-----	-----

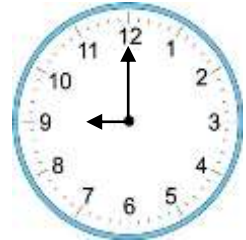
قارن الأعداد التالية باستعمال الرمز المناسب، >، =

0.5..... 100+100 < 40 +400

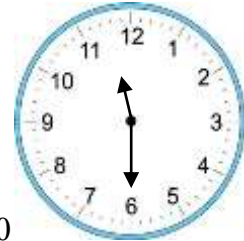
0.5.....100+ 150 = 250

0.5.....900 > 199

الوضعية 3: (2 ن)



0.5..... 9:00



0.5.....11:30

2× 0.5.....

التوقيت المسائي	التوقيت الصباحي
21:00	9:00
23:30	11:30

أكمل الجدول :

حي قعلول - برج البحري - الجزائر

الوضعية 4 : (1.5 ن) $2 \times (3 \times 0.25)$

نصفه	العدد	ضعفه	التمثيل بالقطع و الأوراق النقدية
120	240	480	10 20 50 100 100 100 100
30	60	120	10 50
13	26	52	20 5 1 .

الوضعية الإدماجية : (2 ن)

0.5..... $523 + 349 = 872$

0.25..... المبلغ الذي جمعته أنا و أختي 872 دينار.

0.5..... $872 - 750 = 122$

0.25..... بقي لدينا 122 دينار.

0.25..... العمليتان العموديتان